

اختبار تحصيلي بمادة الجغرافيا لطالبات الصف الأول متوسط

تعليمات الاختبار

عزيزتي الطالبة

1. لديك اختبار مكون من سؤالين

السؤال الاول من نوع الاختيار من متعدد وعليك ان تقرأ السؤال بتأني ثم تختاري احدى البدائل الموجودة لديك ضمن كل الفقرة ، والسؤال الثاني من نوع الاسئلة المقالية مكون من الاسئلة قصيرة اجيبي عنها بما تناسبها .

2. الزمن المخصص للإختبار هو (40) دقيقة .

3. علما ان الاجابة عن جميع الاسئلة وتعطى الطالبة (1) اذا كانت الاجابة صحيحة ، و تعطى الطالبة (صفر) للإجابة الخاطئة او الغير مجابه عنها او التي تحمل اكثر من الاجابة بالنسبة للسؤال الاول

أما السؤال الثاني فتعطى الطالبة (صفر) للإجابة الخاطئة (3) للإجابة الصحيحة .

مع تمنياتي لكم بالتوفيق والنجاح

السؤال الاول : لديك (21) سؤال لكل سؤال أربع الاجابات واحدة منها صحيحة اختاري الحرف الذي يدل على الاجابة الصحيحة و الدرجة كلي للسؤال (21)

ت	فقرات الاختبار
1	يقع العالم العربي بالنسبة الى قارة آسيا في الجزء : أ. الشمال الشرقي ب. الجنوب الغربي ج. الجنوب الشرقي د. الشمال الغربي
2	من أكتف مناطق التركيز السكاني في العالم العربي هي المنطقة: أ. الجبلية ب. الهضبية ج. الصحراوية د. السهلية
3	يقصد بالموارد المائية في العالم العربي : أ -المياه الباطنية المخزونة ب- المياه السطحية كالأنهار ج- كمية الأمطار الساقطة د- جميع مصادر المياه الموجودة
4	تُعد من الأنهار القصيرة في العالم العربي هي نهر: أ. الفرات ب. النيل ج. البلاد الشام د. دجلة
5	تبلغ مساحه العالم العربيمليون كم ²

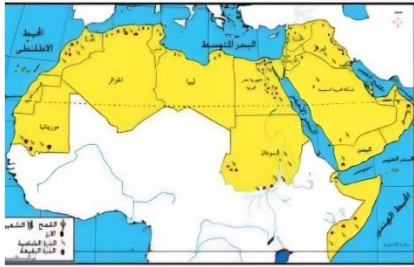

أ. 16.87 ب. 13.53 ج. 10.55 د. 20.12	
تُعرف المناخ بأنه دراسة: أ. مصادر المياه ب. لمعدلات احوال الطقس لمدة طويلة ج. الاراضي الزراعية د. لمعدلات احوال الطقس لمدة قصيره	6
الأقوام الذين هاجروا من شبه الجزيرة العربية إلى فلسطين ، هم : أ- الاراميون ب .الكلدانيون ج -الساميون د. الكنعانيون	7
تُسمى الصناعة التي يتم بها الحصول على الثروات المعدنية من باطن الارض بصناعات : أ. التحويلية ب. المعدنية ج .الكيمياوية د. الإستخراجية	8
من أهم العوامل الطبيعية المؤثرة في توزيع السكان هي : أ. جميع ماذكر ب .الموارد المائية ج- الموقع الجغرافي د. المناخ	9
أهم الدول العربية في إنتاج النفط ، هي : أ. السودان	10

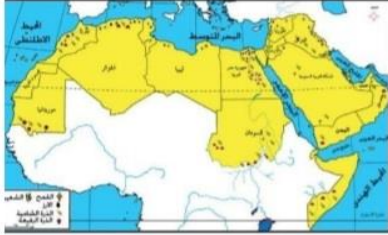



ب. لبنان ج. اليمن د. السعودية	
تبادل السلع والخدمات بين الدول تسمى بالتجارة أ. الخارجية ب. المحدودة ج. الداخلية د. الحرة	11
يعد من أحد مؤلفات العالم العربي ياقوت الحموي : أ. كتاب البلدان ب . تقويم البلدان ج. كتاب الارض د. معجم البلدان	12
يعود سبب الرئيسي في كون الحبوب الغذائية من أهم المحاصيل الزراعية في العالم العربي أ. كونه غذاء رئيسي للسكان ب. تنوع المحاصيل الزراعية ج. توفير المصادر المياه د. خصوبة الاراضي الزراعية	13
يعلل: كونه أقليم المناخ الأستوائي أقل حرارة من المناخ المداري بسبب أ. قلة الامطار ب .ارتفاع نسبة الرطوبة ج. الجفاف د. الرياح	14
تكونت السهول الرسوبي نتيجة مياه أ.الثلوج ب. الباطنية	15

	<p>ج. الانهار</p> <p>د. الامطار</p>
16	<p>تكونت الجبال الانكسارية نتيجة الحركات :</p> <p>أ. الالتوائية</p> <p>ب. التكتونية</p> <p>ج. البركانية</p> <p>د. الإنكسارية</p>
17	<p>يعود سبب انخفاض المساحة الأرضي الزراعية في العالم العربي إلى:</p> <p>أ. الرياح</p> <p>ب. الجفاف</p> <p>ج. كثرة الامطار</p> <p>د. الرطوبة</p>
18	<p>يعود تركز السكان في المناطق السهلية في العالم العربي إلى :</p> <p>أ. الأمطار</p> <p>ب. خصوبة الأراضي السهلية</p> <p>ج. قلة الموارد المائية</p> <p>د. ارتفاع الدرجات الحرارة</p>
19	<p>من أبرز خصائص النفط العربي هي:</p> <p>أ. ضخامة الانتاج</p> <p>ب. ارتفاع التكاليف</p> <p>ج. الآلات المكنن</p> <p>د. ارتفاع اجور العمال</p>
20	<p>سبب تتناقص العاملين في قطاع الزراعة في العالم العربي هو:</p> <p>أ. قلة مصادر المياه</p> <p>ب. ارتفاع المستوى الاقتصادي للعمال</p> <p>ج . الهجرة من الريف إلى المدينة</p> <p>د. البحث عن الراحة والهدوء</p>

21	تعد من أبرز العوامل قيام الصناعة في العالم العربي أ. المواد الخام ب. المكنائن و المعدات ج. الموارد المعدنية د. البنى التحتية
----	--

السؤال الثاني : لديك (9) اسئلة ، لكل سؤال (3) درجات اجيب عن كل فقرة من الفقرات السؤال بما يناسبها
و الدرجة الكلي للسؤال (27)

ت	فقرات الاختبار
22	وزع جغرافياً الأقاليم المناخية على خارطة السماء للعالم العربي؟ 
23	ظل الدول التي تقع في الجانب الآسيوي من العالم العربي ؟ <p>خريطة (14) التوزيع الجغرافي للأقاليم الصحراوية في الوطن العربي</p> 
24	وظف معلوماتك على خارطة العالم العربي الأنهار الطويلة ؟

	 <p>خريطة (٢) الحبوب الغذائية في الوطن العربي</p>	
25	<p>تؤشر على الخارطة الدول الأكثر إنتاجاً للكبريت و الغاز الطبيعي في العالم العربي؟</p> <p>خريطة (14)</p> <p>التوزيع الجغرافي للآلاف الصحراوية في الوطن العربي</p> 	
26	<p>ماهي على الدول الأكبر مساحة في الوطن العربي ؟</p>	
27	<p>وظفي معلوماتك في التعرف على طرق التجارة القديمة عند العرب؟</p> 	
28	<p>وزع جغرافياً على الخارطة الصماء للعالم العربي الدول المنتجة للنفط؟</p> 	
29	<p>ارسمي خارطة صماء للعالم العربي موزعاً عليها مما يأتي :</p> <p>جبل هلكرد ، سلسلة جبال الأطلس ، جبال الأحمر</p>	
30	<p>رتبي الدول المنتجة للغاز الطبيعي حسب كمية الإنتاج من الأعلى إلى الأدنى : الكويت،</p>	