

اختبار تحصيلي لمادة التاريخ لطالبات الصف الأول المتوسط

اسم الطالبة :

الصف والشعبة:

التاريخ

الزمن:

ملاحظة الاجابة على ورقة الاسئلة

عزيزتي الطالبة:

امامك اختبار يتكون من (٤٠) فقرة تتألف كل فقرة من عبارة متنوعة بأربعة بدائل واحدة منها صحيحة وثلاث بدائل خاطئة المطلوب منك اختيار البديل الصحيح

1- اكتب اسمك كاملاً مع الصف والشعبة في المكان المخصص.

2- قراءة كل فقرة بدقة وتركيز.

3- ضعي دائرة حول حرف الاختيار الصحيح.

4- لا تتركي أي فقرة من دون اجابة.

تعطى درجة لكل اجابة صحيحة وصفرأً لكل اجابة خاطئة أو متروكة ان تعامل الفقرات المتروكة معاملة الفقرات الخاطئة.

مثال محلول

قال المؤرخ اليوناني هيرودوتس أن مصر هي :

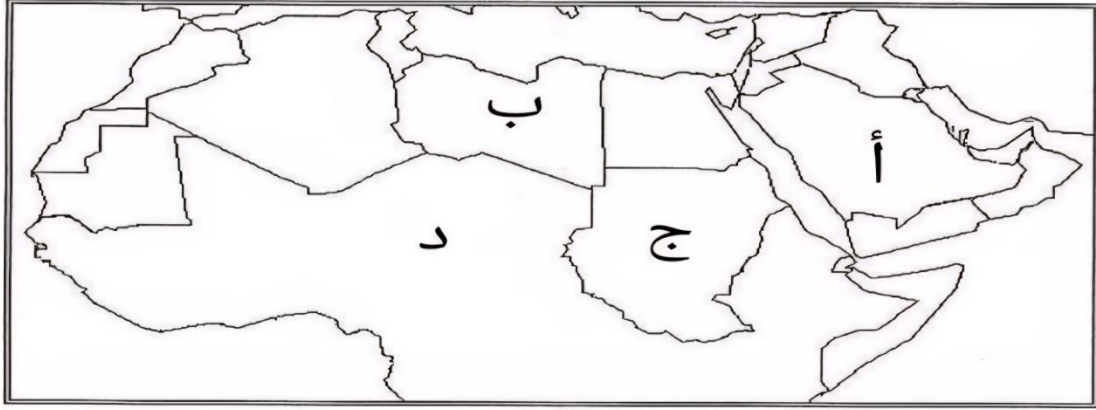
ا- الاهرامات

ب- هبة النيل

ج- ارض الفراعنة

د- ام الدنيا

1- استعيني بالخريطة المرسومة واختاري الحرف الذي يمثل موقع شبة الجزيرة العربية



2- أن سبب هجرة الاقوام من المناطق الجنوبية في شبه الجزيرة العربية هي :

أ- الجفاف الذي حل بها. ب المناخ المعتدل لتلك المناطق

ج- كثرة الامطار التي تسقط عليها د- سيطرة أقوام نبطية

3- حاصر الملك شابور الأول مدينة الحضر لأهميتها :

ا - الصناعية ج - السياسية

ب - التجارية د- السياحية

4- كان جيش المناذرة منظما ومقسما إلى كتائب هي :

أ- الجابية وبصري ب - الرماح والسيوف

ج- الخورنق والجند د- الشهباء والدوسر

5- حدي الرقم الذي يمثل خط انتشار الأقوام العربية باتجاه مدينة الحضر في الخريطة هو :



6- من اشهر اباطرة الرومان

ا- أيل ب- اوكتا فيوس

ج اوتو د- الملك سامي

7- تعرف البوذية بأنها :

أ- لقب ب - مملكة

ج- حضارة د- ديانة

8- القبائل العربية التي اتخذت من ظفار عاصمة لهم هي :

أ- الأراميون ب المعنيون

ج - الحميريين د- السبائيون

9- مؤسس دولة الغساسنة هو :

أ- جفنة بن عمرو ب- عمرو بن هند

ج- جبلة بن الأيهم د- عمرو بن عدي

١٠- سقوط دولة الانباط سنة :

أ- ١٠٥ م ب- ١٠٦ م

ج - ١٠٧ م د - ١٠٨ م

١١ - من ابرز الالهة التي عبدها التدميريون هي :

أ- الاله نابوا ب - الاله شمش

ج- الة الحكمة د- ير حيل

١٢ - من الاسباب التي ادت الى سقوط دولة سبأ هي:

أ- انهيار سد مارب ب- تأمر الفرس والبيزنطيين

ج - تأمر الساسانيون والاحباش د- غزو البلاد من قبل الاحباش

١٣ - الآية القرآنية التي نزلت على مكة المكرمة وتشير الى فشل حملة ابرهة هي:

أ- الفيل ب- الاخلاص

ج العنكبوت د- الكوثر

١٤ - سميت بلاد اليمن (اليمن السعيد) لأنها.

أ- أغنى بلاد العرب ب أنشائها صهاريج لحفظ المياه

ج- امتلاكها العطور والبخور د- تشييد اهلها الابنية الكبيرة

١٥ - تركز المظاهر الحضارية في الجزء الجنوبي الغربي من بلاد فارس لكونها :-

أ- ارض صخرية ب - ارض متموجة

ج - ارض التوائية د- ارض خصبة وسهلية

١٦ - اتخذ المكارب صرواح عاصمة لهم لأنها تقع في:

ا- طرق تجارية ب- مركز ديني

ج - وادي خصب د- وادي أذنه الكبير

١٧ - من أشهر ملوك سبأ :

أ- سقراط ب- سمه على

ج- ارسطو طاليس د- الملك يكر ب

١٨ - سميت الدولة الساسانية بهذا الاسم نسبة إلى مؤسسها:

أ- غسان ب جفنة بن عمرو

ج افلاطون د- ساسان

١٩ - من أشهر فلاسفة اليونان هو :

ا- افلاطون ب- اغسطس

ج- تراجان د- يوليوس قيصر

٢٠ - اختاري الحرف الذي يمثل اشهر ملوك كندة

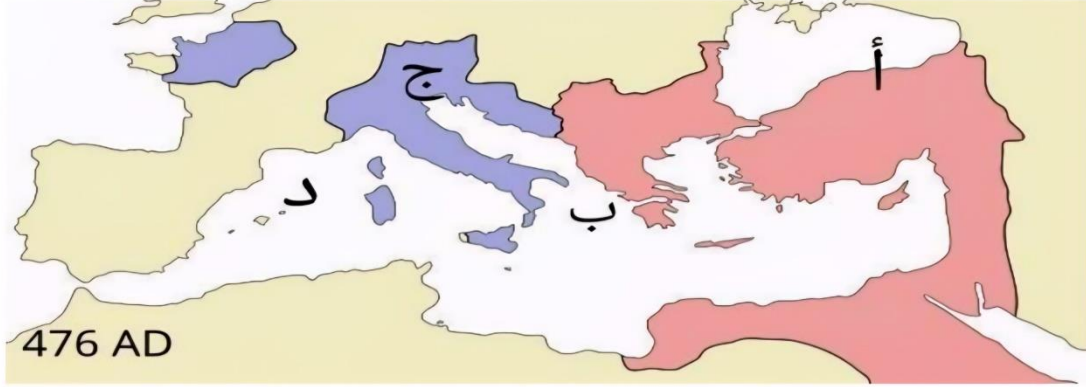
أ	ب	ج	د
الحرث الغساني	ربيعة بن يرام	حجر بن عمرو	أنو شروان

21- تميز المعبد اليوناني بميزات عدة منها:

أ- صفوف أعمدته ب- بناء مدرج من الحجر

ج- صعوبة تخطيطه د- بناء مدرج من اللبن

22- الحرف الذي يمثل موقع الحضارة الرومانية في الخريطة هو:



23- تعرف القبائل الأربية بأنها ذات اصول

أ- يونانية

ب- الهندوسية

ج- نبطية

د- هندية

٢٤ - يقصد بمفهوم التبادل الحضاري بأنه:

أ- تبادل عبيد

ب- تبادل التطور والافكار

ج - تبادل السلع

د- التبادل التجاري

٢٥ - اختاري الحرف الذي يمثل مكونات المجتمع التدمري

أ	ب	ج	د
طبقة الملك وحاشيته	طبقة المزارعين	عامّة الشعب	طبقة الأجانب

26- من أشهر فلاسفة اليونان الذي سمي بالمعلم الأول هو :

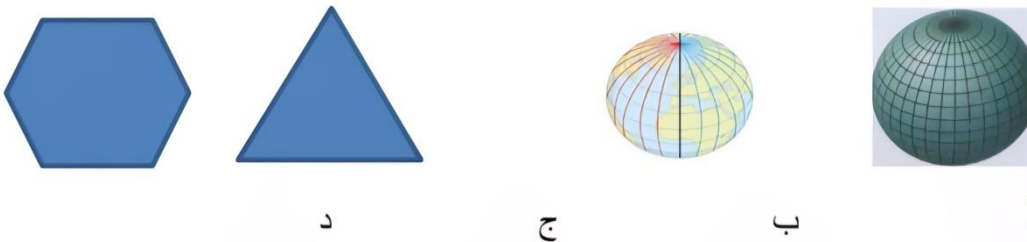
ا- افلاطون

ب- ارسطو طاليس

ج سقراط

د- هيرودوتس

٢٧- اختاري الشكل الذي يمثل خطوط الطول ودوائر العرض



٢٨ - ما الهدف من بناء سد مأرب

أ- تقليل اندفاع السيول ب- لها دورا اقتصاديا

ج- بسبب الجفاف د- بسبب دورها التجاري

٢٩ - من مميزات مملكة سبأ في مرحلة حكم الملوك ازدهارها ب:

أ- بالبناء والعمران ب- وفرة المياه

ج- الثراء د- القوة

٣٠- من العوامل التي ادت الى انتقال الرومان من النظام الجمهوري الى النظام الامبراطوري

أ- العوامل الاقتصادية ج - العوامل السياسية

ب العوامل الاجتماعية د- جميع ما ذكر

٣١- أي التواريخ يمثل عهد النبلاء:

أ- (١١٠٠ - ٧٥٠ ق.م) ب- (٧٥٠-٦٢٥ ق.م)

ج (٥٢٥ - ٤٠٠ ق.م) د - (٦٢٥ - ٥٢٥ ق.م)

٣٢- اهم الانجازات الحضارية لبلاد الاغريق:

أ - ابدعوا في التاريخ ب- اكتشف الكتابة

ج - برعوا في الطب د- صناعة السفن

33- من الانجازات الحضارية لشبة الجزيرة العربية:

أ- الابنية المنحوتة ب طوروا علوم البحار

ج - الوحدة الاجتماعية د- ابدعوا بالفن

٣٤- من اهم الممالك التي ظهرت في بلاد اليمن هي:

أ- مملكة الانباط ب- مملكة الامراء

ج- مملكة معين د- دولة تدمر

٣٥ - هي من اشهر الممالك العربية القديمة قامت في الجنوب الغربي من بلاد العرب :

أ- دولة معين ب- دولة كندة

ج- دولة سبأ د- دولة الغساسنة

٣٦ - اختاري الحرف الذي يمثل موقع حضارة بلاد فارس بوضع دائرة حوله:



37- الملك الذي تمكن من طرد الأحباش من بلاد اليمن هو :

أ- جبلة بن الايهم ب- كورش

ج- سيف بن ذي يزن د- انوشروان

٣٨- سمي الغساسنة بهذا الاسم نسبة إلى :

أ- اشهر ملوكهم ب- عين ماء

ج- الكاهن المعظم لديهم د- المماليك

٣٩- اختاري الحرف الذي يمثل موقع دولة كندة بوضع دائرة حوله :



٤٠ - ما معنى كلمة (ايوان الكبير) :

ا- قاعدة العرش ب- طيسفون

ج- القصر د- المدائن

مفتاح الإجابة الصحيحة للاختبار التحصيلي

الاختيار الصحيح	تسلسل الفقرة	الاختيار الصحيح	تسلسل الفقرة
ج	21	أ	1
أ	22	أ	2
د	23	ب	3
ب	24	د	4
د	25	ب	5
ب	26	ب	6
ب	27	د	7
أ	28	ج	8
أ	29	أ	9
د	30	ب	10
ب	31	د	11
أ	32	أ	12
ب	33	أ	13
ج	34	أ	14
ج	35	د	15
د	36	ج	16
ج	37	ب	17
ب	38	د	18
د	39	أ	19
أ	40	ج	20